

第十七章 特殊三角形

小结与复习

知识回顾



考点分析



复习归纳



课后作业

知识回顾

◆等腰三角形的定义

有两条边相等的三角形叫做等腰三角形.

◆等腰三角形的性质定理1

等腰三角形的两个底角相等（等边对等角）.

◆等腰三角形的性质定理2

等腰三角形的顶角平分线，底边上的中线，底边上的高互相重合（通常说成等腰三角形的“三线合一”）.

◆等腰三角形的判定定理

如果一个三角形有两个角相等, 那么这个三角形是等腰三角形（简写成“等角对等边”）.

◆等边三角形的判定

有一个角是 60° 的等腰三角形是等边三角形.

◆直角三角形的性质定理1

直角三角形的两个锐角 互余.

◆直角三角形的判定定理

如果一个三角形的两个角 互余，那么这个三角形是直角三角形.

◆直角三角形的性质定理

直角三角形斜边上的中线等于斜边的 一半.

◆含 30° 角的直角三角形的性质

在直角三角形中，如果一个锐角等于 30° ，那么它所对的直角边等于斜边的 一半.

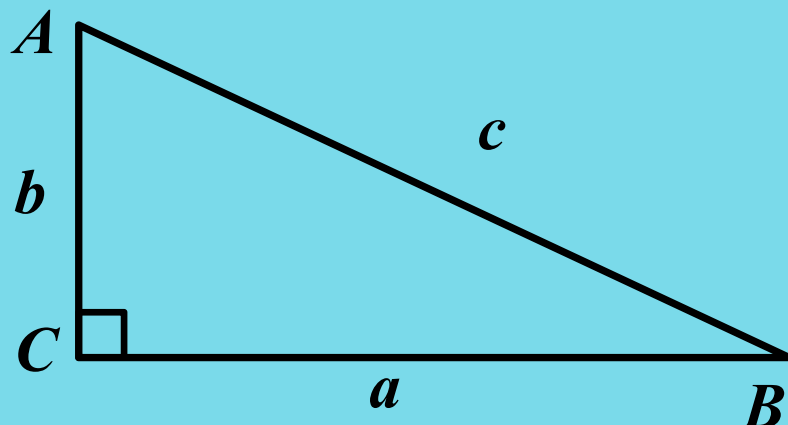
◆勾股定理

如果直角三角形两直角边分别为 a ， b 斜边为 c ，那么

$$\underline{a^2+b^2=c^2}.$$

◆勾股定理的逆定理

如果 $\triangle ABC$ 的三边 a ， b ， c 满足 $a^2+b^2=c^2$ ，那么这个三角形是直角三角形.



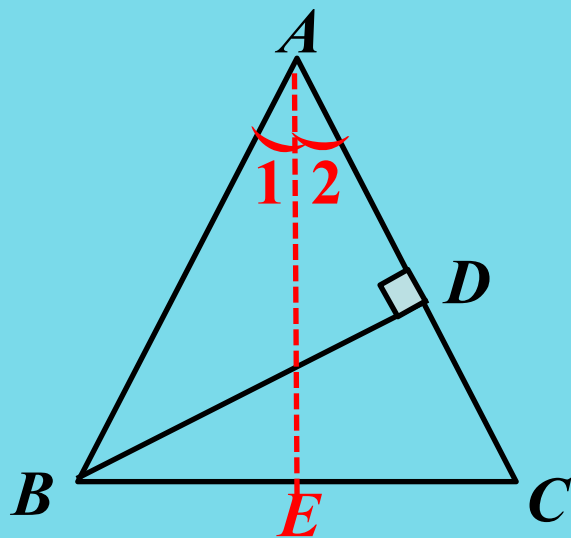
◆直角三角形全等的判定定理

斜边和直角边对应相等的两个直角三角形全等.

专题一 等腰三角形的性质与判定

例1 如图所示, 在 $\triangle ABC$ 中, $AB=AC$, $BD \perp AC$ 于D. 求证:
 $\angle BAC=2\angle DBC$.

【解析】根据等腰三角形“三线合一”的性质, 可作顶角 $\angle BAC$ 的平分线, 来获取角的数量关系.



【答案】 作 $\angle BAC$ 的平分线 AE , 交 BC 于点 E , 如图所示, 则

$$\angle 1 = \angle 2 = \frac{1}{2} \angle BAC.$$

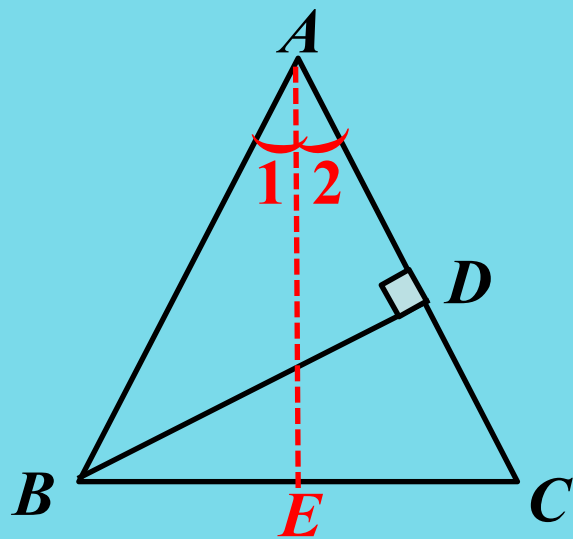
$$\because AB = AC, \therefore AE \perp BC.$$

$$\therefore \angle 2 + \angle ACB = 90^\circ.$$

$$\because BD \perp AC, \therefore \angle DBC + \angle ACB = 90^\circ.$$

$$\therefore \angle 2 = \angle DBC.$$

$$\therefore \angle BAC = 2\angle DBC.$$



【归纳拓展】 等腰三角形的性质与判定是本章的重点之一, 它们是证明线段相等和角相等的重要依据, 等腰三角形的特殊情形——等边三角形的性质与判定应用也很广泛, 有一个角是 30° 的直角三角形的性质是证明线段之间的倍分关系的重要手段.

【配套训练】如图所示，在 $\triangle ABC$ 中， $AC=BC$ ， $\angle ACB=90^\circ$ ，点 D 是 AC 上的一点， AE 垂直 BD 的延长线于点 E ，且 $AE=\frac{1}{2}BD$ 。

求证： BD 平分 $\angle ABC$ 。

【证明】延长 AE 交 BC 的延长线于点 F ，如图所示。

$$\because \angle ACB=90^\circ, \therefore \angle ACF=\angle ACB=90^\circ.$$

$$\because \angle F+\angle FAC=90^\circ, \therefore \angle F+\angle EBF=90^\circ.$$

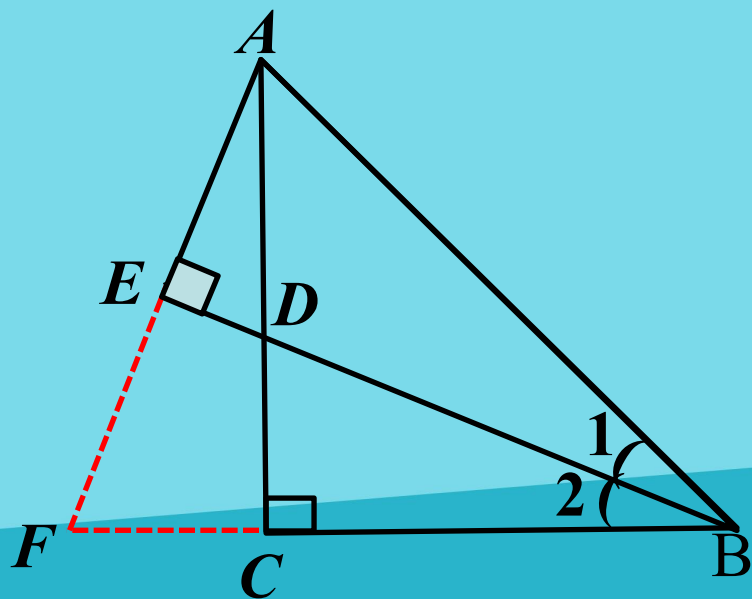
$$\therefore \angle FAC=\angle EBF.$$

在 $\triangle ACF$ 和 $\triangle BCD$ 中，

$$\begin{cases} \angle FAC=\angle DBC, \\ AC=BC, \\ \angle ACF=\angle BCD, \end{cases}$$

$\therefore \triangle ACF \cong \triangle BCD(\text{ASA}).$

$$\therefore AF=BD.$$

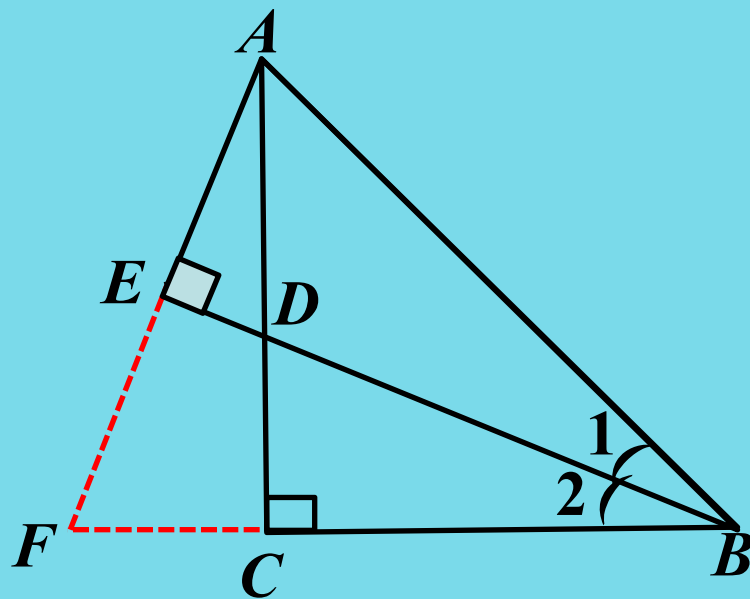


$$\because AE = \frac{1}{2} BD, \therefore AE = EF.$$

在 $\triangle AEB$ 和 $\triangle FEB$ 中,

$$\begin{cases} AE = FE, \\ \angle AEB = \angle FEB, \\ EB = EB, \end{cases}$$
$$\therefore \triangle AEB \cong \triangle FEB (\text{SAS}).$$
$$\therefore \angle ABE = \angle FBE,$$

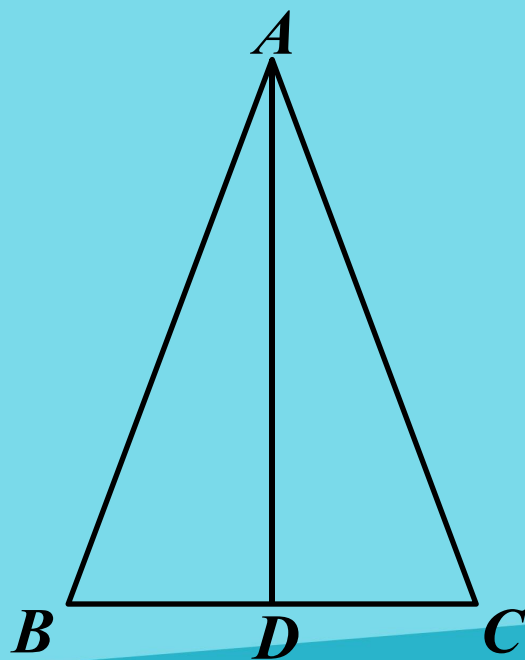
即 BD 平分 $\angle ABC$.



专题二 利用直角三角形全等解决实际问题

例2 如图，两根长均为12米的绳子一端系在旗杆上，旗杆与地面垂直，另一端分别固定在地面上的木桩上，两根木桩离旗杆底部的距离相等吗？

【分析】将本题中实际问题转化为数学问题就是证明 $BD=CD$.由已知条件可知 $AB=AC$. $AD \perp BC$.



【解】相等，理由如下：

$$\because AD \perp BC,$$

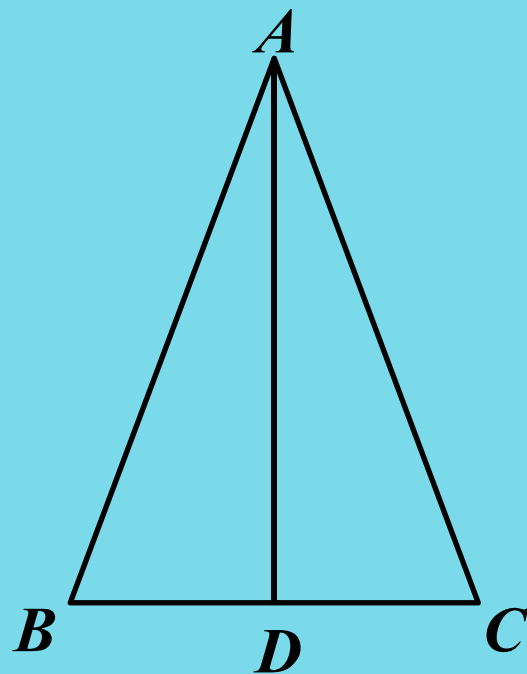
$$\therefore \angle ADB = \angle ADC = 90^\circ .$$

在 $\text{Rt}\triangle ADB$ 和 $\text{Rt}\triangle ADC$ 中，

$$\begin{cases} AD = AD, \\ AB = AC, \end{cases}$$

$$\therefore \text{Rt}\triangle ADB \cong \text{Rt}\triangle ADC (\text{HL}).$$

$$\therefore BD = CD.$$



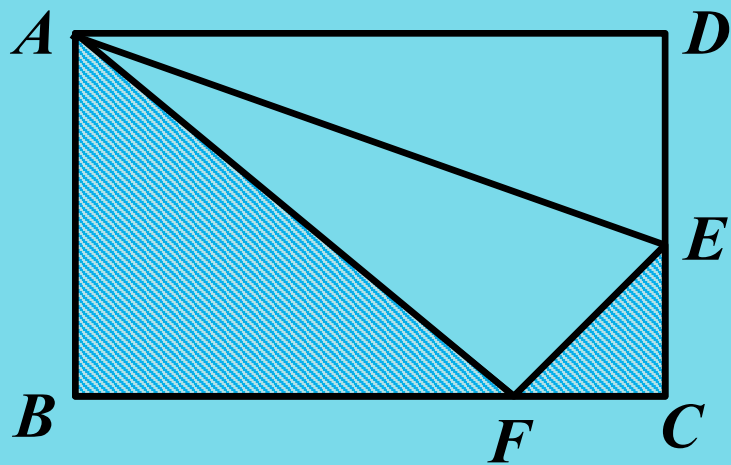
【归纳拓展】利用全等三角形可以测量一些不易测量的距离，长度，还可对某些因素作出判断，一般采用以下步骤：

- (1) 先明确实际问题；
- (2) 根据实际抽象出几何图形；
- (3) 经过分析，找出证明途径；
- (4) 书写证明过程。

专题三 勾股定理

例3 如图，将长方形纸片 $ABCD$ 沿 AE 折叠，顶点 D 恰好落在 BC 边上的点 F 处，已知 $CE=3\text{cm}$ ， $AB=8\text{cm}$ ，求图中阴影部分的面积。

【分析】本题主要考察勾股定理和折叠的性质，根据勾股定理列出方程即可求解。



【解】易知： $AF=AD$ ， $EF=DE-DC-CE=AB-CE=8-3=5$ （cm）

在Rt $\triangle ABC$ 中，由勾股定理，得 $CF=\sqrt{EF^2-CE^2}$ 。

设在Rt $\triangle ABC$ 中，由勾股定理，得 $BF=x$ ，

则 $AF=AD=BC=BF+CF=(x+4)$ （cm），

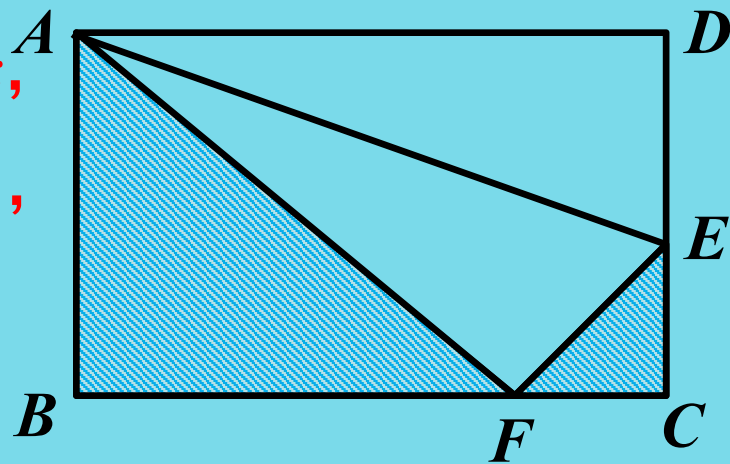
在Rt $\triangle ABC$ 中，由勾股定理，

得 $8^2+x^2=(x+4)^2$ 。

解得 $x=6$ ，即 $BF=6$ cm，所以 $BC=BF+CF=10$ （cm），所以阴影

部分的面积为

$$\frac{1}{2}BF \cdot AB + \frac{1}{2}CF \cdot CE = \frac{1}{2} \times 6 \times 8 + \frac{1}{2} \times 4 \times 3 = 30(\text{cm}^2).$$



专题四 本章的数学思想与解题方法

◆ 分类讨论思想

例4 等腰三角形的周长为20cm, 其中两边的差为8cm, 求这个等腰三角形各边的长.

【解析】要考虑腰比底边长和腰比底边短两种情况.

【答案】若腰比底边长, 设腰长为 x cm, 则底边长为 $(x-8)$ cm, 根据题意得 $2x+x-8=20$,

$$\text{解得 } x=\frac{28}{3}, \therefore x-8=\frac{4}{3};$$

若腰比底边短, 设腰长为 y cm, 则底边长为 $(y+8)$ cm, 根据题意得 $2y+y+8=20$, 解得 $y=4$, $\therefore y+8=12$, 但 $4+4=8 < 12$, 不符合题意.

故此等腰三角形的三边长分别为 $\frac{28}{3}$ cm, $\frac{28}{3}$ cm, $\frac{4}{3}$ cm.

【归纳拓展】 根据等腰三角形的性质求边长或度数时，若已知条件未明确所给的角是顶角还是底角、所给的边是腰还是底边时，要分两种情况才能使答案不致缺漏，同时，求出答案后要 and 三角形的内角和定理及三角形三边关系对照，若不符合，则答案不成立，要舍去，这样才能保证答案准确.

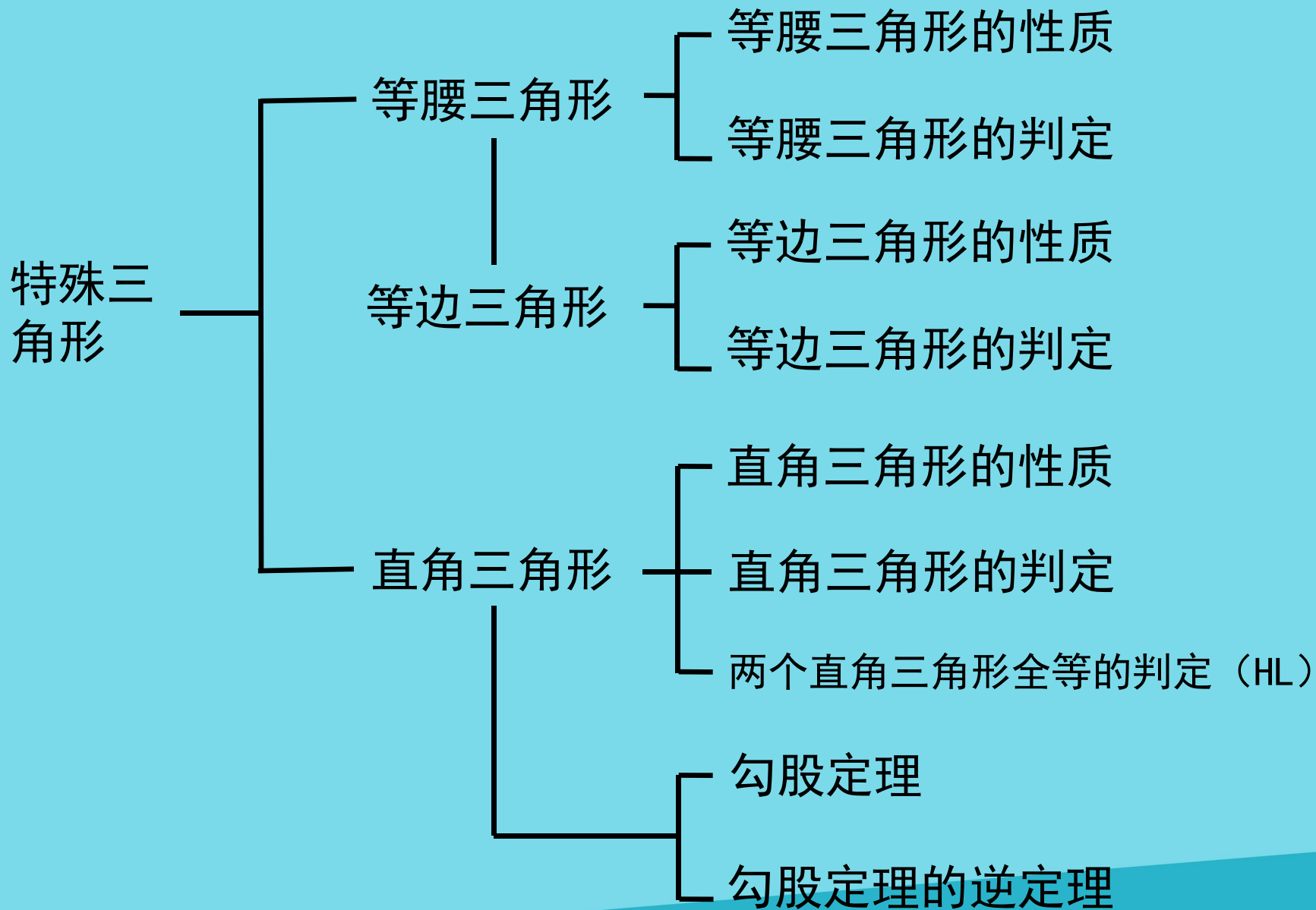
【配套训练】 等腰三角形的两边长分别为4和6，求它的周长.

【答案】 ①若腰长为6，则底边长为4，周长为 $6+6+4=16$ ；

②若腰长为4，则底边长为6，周长为 $4+4+6=14$.

故这个三角形的周长为14或16.

复习归纳



见《学练优》本章热点专练