



第3课时 除法算式的认识

1. 我会算一算。


$52+18-64=$
 $72-19-35=$
 $35+(42-16)=$




$83-65+12=$
 $68+15-75=$
 $64-(58-45)=$



$18+9+17=$
 $46-28+16=$
 $91-(85-57)=$




2. 把 18 只小船, 每 6 只装一箱, 能装()箱。



$$\begin{array}{ccc} \square & \div & \square = \square \\ \vdots & & \vdots \\ (&) & (&) \end{array} \quad (&) \text{ (箱)}$$

3. 有 24 个桃, 够()只小猴吃。



每只小猴吃 6 个桃。



。赛个()要需, 赛个一主小只 $\square \div \square = \square$ (只)

4. 有 15 支铅笔, 每个文具盒里放 5 支, 需要()个文具盒。



(只) $\square = \square \circ \square$ $\square \div \square = \square$ (个)