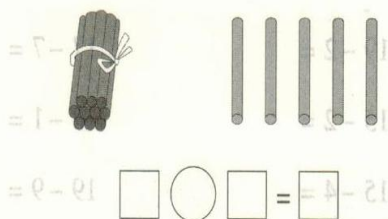


第八单元考点清单

考点一 不进位加法

1. 10 加几的计算方法: 10 加几得十几。
2. 十几加几的计算方法: 计算十几加几时, 十位上的数不变, 只把个位上的数相加。

例1 看图列加法算式。



解析: 首先明确 1 捆小棒里有 10 根小棒, 再根据 10 加几的计算方法计算。

正确答案: $10 + 5 = 15$

易错答案: $1 + 5 = 6$

错因分析: 错解错在没有看懂题意, 没有弄清楚 1 捆小棒里有 10 根小棒。

满分备考: 10 根小棒就是 1 个十, 不要把它看成 1 个一。

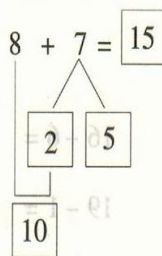
考点二 进位加法

计算 9 加几和 8、7、6 加几的计算方法有点数法、接着数、凑十法。其中凑十法比较简便。可以采用“拆小数, 凑大数”的方法, 也可以用“拆大数, 凑小数”。

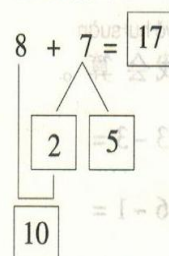
例2 计算 $8 + 7 =$

解析: 计算 8 加几时, 利用凑十法比较简便, 把 7 分成 2 和 5, 先算 $8 + 2 = 10$, 再算 $10 + 5 = 15$ 。

正确答案:



易错答案:



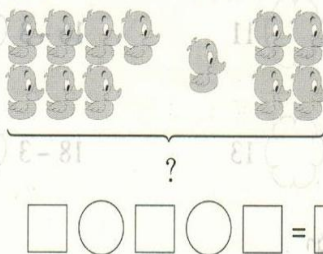
错因分析: 错解错在没有掌握凑十法。

满分备考: 利用凑十法计算时, 将一个数凑成 10 后, 要用另一个数分出一部分后剩下的数来加 10。

考点三 连加

3 个或 3 个以上的数连续相加就是连加。计算连加算式时, 要按从左往右的顺序依次计算, 先把前两个数相加, 再把相加的得数与第三个数相加。

例3 看图列式计算。



解析: 鸭子是由三部分组成的, 左边 7 只, 中间 1 只, 右边 4 只, “?” 在“——”的下面, 求的是总量, 用加法计算。

正确答案: $7 + 1 + 4 = 12$

易错答案: $8 + 4 + 0 = 12$

错因分析: 错解错在没有弄清图中各部分的数量是多少。

满分备考: 做连加题时, 一定要弄清楚每部分的数量是多少, 再列式计算。