

人教版小学数学二年级上册期中试卷 A

班别：\_\_\_\_\_ 姓名：\_\_\_\_\_ 成绩：\_\_\_\_\_

一、我是小小口算家。

$3 \times 5 =$	$80 - 3 =$	$30 + 49 =$	$6 \times 3 =$	$99 - 4 =$
$23 + 8 =$	$4 \times 3 =$	$7 + 55 =$	$3 \times 1 =$	$6 \times 2 =$
$4 \times 6 =$	$34 - 6 =$	$5 \times 5 =$	$4 \times 2 =$	$4 \times 5 =$
$46 - 6 =$	$6 + 5 =$	$60 - 7 =$	$6 \times 5 =$	$67 - 9 =$

二、填一填。

- 100 厘米 = ( ) 米          课桌高 90 ( )
- 三角板上有 ( ) 个角，有 ( ) 直角。数学书的封面有 ( ) 个直角。
- 一个正方形有 ( ) 个角，它们都是 ( ) 角。
- 一个正方体有 ( ) 个面，每个面有 ( ) 个直角，正方体一共有 ( ) 个直角。
- 在○里填上“>”、“<”、“=”。

$4 \times 6 \bigcirc 5 \times 5$	$34 - 20 \bigcirc 4 \times 4$	$6 \bigcirc 3 \times 3$
$5 + 16 \bigcirc 5 \times 6$	$2 + 2 \bigcirc 2 \times 2$	$1 \text{ 米} \bigcirc 50 \text{ 厘米} + 60 \text{ 厘米}$

- $5+5+5+5$  改写成乘法算式是 ( ) 或 ( )，口诀是 ( )。

- 妈妈带 100 元钱给小明买一套衣服， 42 元， 39 元，妈妈大约用了 ( ) 元，大约还剩 ( ) 元钱。

三、判断。(对的打“√”，错的打“×”)

- 角的边长越长，角就越大。 ( )
- 6 和 3 相乘，可以写作  $6 \times 3$ ，口诀是三六十八。 ( )
- 9 个 4 相加的和是 13。 ( )
- 小明身高大约 132 厘米。 ( )
- 1 米和 100 厘米一样长。 ( )

四、动脑筋，认真填，画一画。

1. 看图填空。

★ ★ ★ ★ ★ 加法算式：\_\_\_\_\_ 或：\_\_\_\_\_

★ ★ ★ ★ ★ 乘法算式：( )  $\times$  ( ) = ( ) 读作：\_\_\_\_\_

★ ★ ★ ★ ★ 或：( )  $\times$  ( ) = ( ) 读作：\_\_\_\_\_

2.用三角板画一个直角。

3.画一条比5厘米短2厘米的线段。

五、笔算下面各题。

$62+35=$

$89-34=$

$17+79=$

$90-84=$

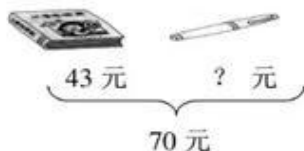
$46+27+18=$

$85-58-14=$

$71-65+34=$

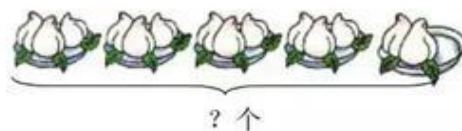
六、看图列式计算。

(1)



$\square \circ \square = \square (\quad)$

(2)



$\square \circ \square \circ \square = \square (\quad)$

七、解决生活中的数学问题。

1、



一共浇多少棵树？


2、



女生种了25棵向日葵，男生种的比女生多19棵，男生种了多少棵向日葵？

3. 一个班有5个小组，每组有6个同学，这个班有多少人？

4. 一共有多少朵菊花？



5. 小红折纸鹤 (hè), 前 3 天每天折 4 只, 后来又折了 5 只, 她一共折了多少只纸鹤?

6. 猜一猜, 算一算。



65 元



48 元



52 元



32 元

妈妈带 100 元可以买上面的哪两样物品?

4.      薯片                  牛奶                  饼干  
         每包 5 元              每盒 3 元              每包 6 元

(1) 小红买了 3 盒牛奶一共用去多少元?

$\square \circ \square = \square$  ( ) 答:

(2) 小明有 20 元钱买一种东西正好用完, 他可以买什么?

$\square \circ \square = \square$  ( ) 答: 他买的是 ( )。

(3) 你还能提出什么问题?

\_\_\_\_\_  $\square \circ \square = \square$  ( ) 答:

13



2 元



4 元



5 元



6 元



1 元

(1) 5 个  多少元钱? (3 分) \_\_\_\_\_

(2) 4 个  多少元钱? (3 分) \_\_\_\_\_

(3) 你有 20 元, 想买什么, 还剩多少钱? \_\_\_\_\_

(4) 你能提出用乘法计算的数学问题, 并解答吗?

\_\_\_\_\_  
 \_\_\_\_\_