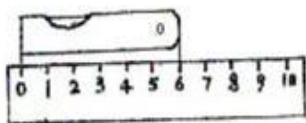


人教版小学数学二年级上册期中试卷D

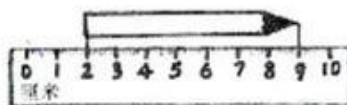
班别：\_\_\_\_\_ 姓名：\_\_\_\_\_ 成绩：\_\_\_\_\_

一、填空。(4题、10题每题6分，其余每空1分，共30分)

- 根据三四十二这句口诀可写出两道乘法算式：( ) 和 ( )。
- $4+4+4+4$  改写成乘法算式是 ( ) 用口诀 ( ) 计算。
- 三角板上有 ( ) 个角，其中直角有 ( ) 个。
- ( ) 五二十 三 ( ) 得九 ( ) 五得五 ( ) 十二  
 $4 \times ( ) = 3 \times ( )$        $5 \times ( ) = ( ) \times ( )$
- $200 \text{ 厘米} = ( ) \text{ 米}$        $23 \text{ 厘米} - 7 \text{ 厘米} = ( ) \text{ 厘米}$   
 $8 \text{ 米} + 15 \text{ 米} = ( ) \text{ 米}$        $1 \text{ 米} - 50 \text{ 厘米} = ( ) \text{ 厘米}$
- 在 ( ) 里填上合适的长度单位。(米、厘米)  
 一棵大树高约 15 ( )；      铅笔的长大约是 18 ( )；  
 数学书长约 20 ( )；      爸爸的身高是 170 ( )；
- 小亮计划写 100 个汉字，昨天写了 28 个汉字，今天写了 42 个汉字，两天大约写了 ( ) 个汉字。
- 如果  $\triangle + \triangle + \triangle + \triangle + \triangle + \triangle = 30$ ，那么  $\triangle = ( )$ 。
- 在 ( ) 里写出所量物体的长度。



( ) 厘米



( ) 厘米


- 10、在○里填上“<” “>” 或“=”。(每题1分，共6分)

$6 \times 2$  ○  $6 + 6$        $5 \times 3$  ○  $20 - 6$       1米 ○ 80厘米  
 $3 \times 6$  ○ 12       $4 + 4$  ○  $4 \times 4$       1米20厘米 ○ 120厘米

二、我是小判官，对错我来判。(对的“√”，错的“×”，每题1分，共5分)

- 角的大小与边的长短有关系，边越长，角越大。( )
- $100 \text{ 厘米} > 1 \text{ 米}$ 。( )
- $3 \times 5 = 5 \times 3$ 。( )
- 5个6相加是多少，列式是： $5 + 6 = 11$ 。( )
- 一辆小轿车有4个轮子，3辆一共有12个轮子。( )

三、百里挑一，我会选。(每题1分，共5分)

- $4 \times 6$  表示 ( )。      A、4个6相乘      B、4和6相加      C、4个6相加
-  左图中一共有 ( ) 条线段。      A、3条      B、2条      C、1条

- 3、下列长度接近1米的是：( ) A、教室长 B、课桌宽 C、足球场宽  
 4、黑板面上的直角( )数学书封面上的直角。 A、大于 B、小于 C、等于  
 3、 $6+6+6-6$  改写成乘法算式是( )。 A、 $4\times 6-6$  B、 $2\times 6$  C、 $3\times 6$

四、仔细看，动手写，动脑算。

1、直接写出得数。(每题0.5分,最后4题各1分,共10分)

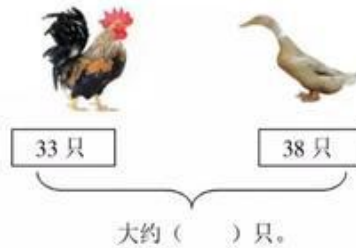
$36-8=$	$3\times 5=$	$4\times 6=$	$24+60-7=$
$4\times 4=$	$87-27=$	$5\times 6=$	$2\times 6-6=$
$69-26=$	$5\times 4=$	$1\times 1=$	$6\times 3-5=$
$2\times 4=$	$26-17=$	$38+7=$	$5\times 5+13=$

2、用竖式计算。

$18+67=$        $80-26=$        $57+33=$

$25+38+37=$        $72-37-18=$        $8+68-29=$

3、估算。



4、列式计算。(16分)

- 3个5相加的和是多少?
- 两个因数都是6,积是多少?
- 一个加数是4,另一个加数是5,和是多少?
- 比33多39的数是多少?



五、画一画、量一量、数一数。(2+2+3, 共7分)

(3) 根据已知射线画一个直角。(2)



上图中有 ( ) 条线段, 有 ( ) 个直角

(3) 画一条比5厘米短2厘米的线段。

六、解决问题(20分)

1、草地上原有34只羊,走了16只,又来了25只,现在有多少只?

2、妈妈买回20个苹果,每天吃3个,吃了6天。



妈妈买回的苹果少  
了多少个?

3、



书包24元



文具盒?元



彩笔6元



练习本2元

① 书包比文具盒贵18元,文具盒多少元?



② 小芳买了4盒彩笔,一共花了多少钱?

③ 你还能提出什么问题,并列式计算。

问题是: \_\_\_\_\_

算式是: \_\_\_\_\_