

人教版三年级上册数学期末测试卷

一. 选择题(共 6 题, 共 12 分)

1. 一个箱子里有 30 个球, 其中红球占总数的 $\frac{2}{5}$, 红球有 () 个。

- A. 6 B. 12 C. 18

2.

一个两位数乘 5, 积 ()。

- A. 一定是两位数 B. 一定是三位数 C. 可能是两位数, 可能是三位数
D. 不是两位数, 也不是三位数

3. 下面哪两个数相加得 1000? ()

- A. 536 和 361 B. 649 和 341 C. 792 和 208

4. 同学们去春游, 平均每辆车上坐了 53 名学生, 一共有 3 辆车, 去春游的学生有 () 名。

- A. 915 B. 519 C. 159 D. 195

5. 长为 2 分米, 宽为 15 厘米的长方形的周长是 ()。

- A. 35 厘米 B. 7 厘米 C. 7 分米

6. 丰华村去年有 18 户装了电话, 今年装电话的有 23 户, 每户装电话要付 1800 元. 丰华村今年装电话比去年多付(选择适当的解法解答) ()。

- A. 41400 元 B. 32400 元 C. 9000 元 D. 900 元

二. 判断题(共 6 题, 共 12 分)

1. 明明第一天晨跑了 532 米, 第二天晨跑了 417 米, 两天一共大约晨跑了 950 米。 ()

2. 长方形没有高。 ()

3. 把一个西瓜切成 4 块，弟弟吃了其中的 1 块，就是吃了这个瓜的 $\frac{1}{4}$ 。

()

4. 一辆小货车载质量约 1 吨。()

5. 秒针跑一圈就是 1 时。()

6. $\frac{6}{8}$ 和 $\frac{3}{4}$ 相等，但分数单位不同。()

三. 填空题(共 6 题，共 20 分)

1. 三位数乘一位数，积最少是 () 位数，最多的是 () 位数。

2. 《十万个为什么》有 452 页，笑笑准备 3 天看完，第一天看了 187 页，第二天看了 154 页，第三天要看 () 页。

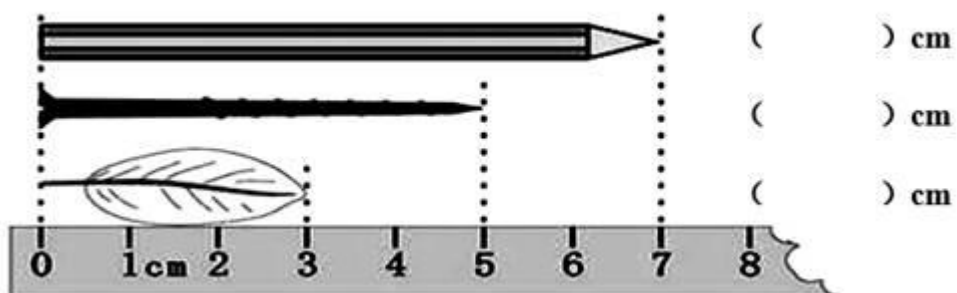
3. 计算 $18+12\times 6$ 应先算 () 法，再算 () 法，计算结果是 () 。

4. 填上合适的数。

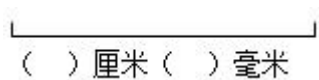
$$560 - \underline{\quad\quad} = 270 \quad 390 - \underline{\quad\quad} = 120 \quad \underline{\quad\quad} - 120 = 630$$

$$\underline{\quad\quad} - 410 = 230 \quad 680 - \underline{\quad\quad} = 330 \quad \underline{\quad\quad} - 150 = 310$$

5. 填一填。



2. 先量出这条线段的长度，在下面画一条比已知线段长 1 厘米的线段。



六. 解答题(共 6 题，共 37 分)

1. 解答题。



(1) 一共有多少袋麦子？

(2) 麦子比稻谷多多少袋？

2. 学校图书馆买来科技书 250 本，故事书 280 本，连环画比这两种书的总和少 70 本。学校买来连环画多少本？

3. 北京到沈阳，飞机票 700 元，动车票 218 元。坐动车比坐飞机大约便宜多少元？

4. 有一堆白菜已经运走 268 千克，剩下的比运走的少 68 千克。这堆白菜有多少千克？

5. 有一根 10 厘米长的火腿肠，明明吃了 7 厘米，妈妈把剩下的每 6 毫米切成一片，一共可以切多少片？

6. 一只青蛙 4 条腿，4 只一队跳下水，数数共有 4 队蛙，多少青蛙多少腿？



参考答案

一. 选择题

1. B

2. C

3. C

4. C

5. C

6. C

二. 判断题

1. √

2. ×

3. ×

4. √

5. ×

6. √

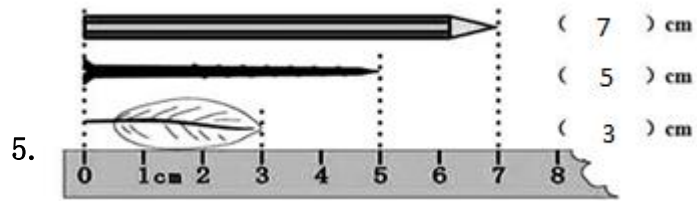
三. 填空题

1. 三; 四

2. 111

3. 乘; 加; 90

4. 290; 270; 750; 640; 350; 460



6. 2080; 2000

四. 计算题

1. 56; 45; 3000; 45; 34; 1200; 60; 6000

2. 5; 54; 8; 1000; 24; 9; 9; 3000; 130; 300

3. 700; 100; 500; 190; 550; 270; 30; 9; 200; 120; 255; 24

五. 作图题

1. 3:25; 20; 3:45; 4:10; 9:35; 10:05; 40; 10:45; 画图略

2. 如图:



六. 解答题

1. (1) 解: $330+500=830$ (袋)

答: 一共有 830 袋麦子。

(2) 解: $830-700=130$ (袋)

答: 麦子比稻谷多 130 袋。

2. $250+280-70$

$=530-70$

=460 (本)

答：学校买来连环画 460 本.

3. 解： $700-218 \approx 500$ (元)

答：坐动车比坐飞机大约便宜 500 元.

4. 解： $268-68+268=468$ (千克)

答：这堆白菜有 468 千克。

5. $10-7=3$ (厘米)

3 厘米=30 毫米

$30 \div 6=5$ (片)

答：一共可以切 5 片。

6. 青蛙： $4 \times 4=16$ (只) 腿数： $4 \times 16=64$ (条) 答： 16 只青蛙 64 条腿。