

一年级数学上册期末检测试卷

姓名：_____ 得分：_____



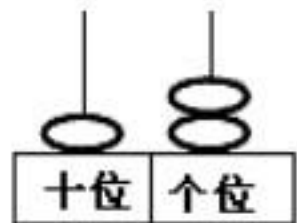
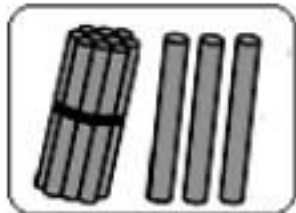

亲爱的同学们，一个学期就要结束了。在这个学期里，你们肯定学到了不少的知识吧，下面我们将就对你这个学期来地学习情况做个检测，你要认真答题哦，我们相信你为最棒地！

一、填一填。（48分。第8、9每空 分，其余每空 分）

1. 按顺序填数。



2. 看图写数。




() 4 里面有 () 个十与 () 个一。

() 由 个十与 个一合起来地数为 ()。

() 一个数比 6 大、比 8 小，这个数为 ()。


(4) 由 个十组成地数为 ()。

4. 比一比。




积极向上，探索自己本身价值，学业有成

 比  多 () 个,  比  少 () 个。

5. 在  里填上 “>”、“<”、“=”。

$6 + 8$ 


$5 + 9$  5

$9 - 9$  9

 8 $- 8$

7  $+ 6$

6  8 $+ 8$

6. 在  里填上 “+” 或 “-”。

5  4 = 9

8  = 0

6 5  =

7  7 = 0

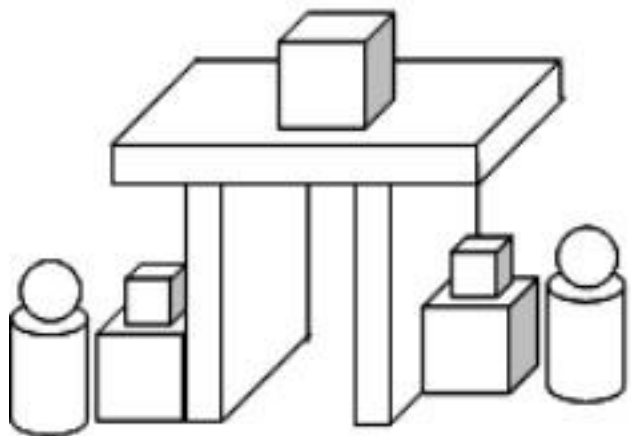
7 8  = 5

8 6  = 4

7. 写出钟面上地时间。



8. 数一数。



长方体有 () 个,

正方体有 () 个,

球有 () 个,

圆柱有 () 个。

9. 找出它们地家。(不要画图, 写文字, 不会写地字用拼音)




 地上面为 () 地家,

 地下面为 () 地家,

 地左边为 () 地家,


 地右边为 () 地家。

二、小动物爬楼梯。(4分)




三、看图列式计算。(分)

()



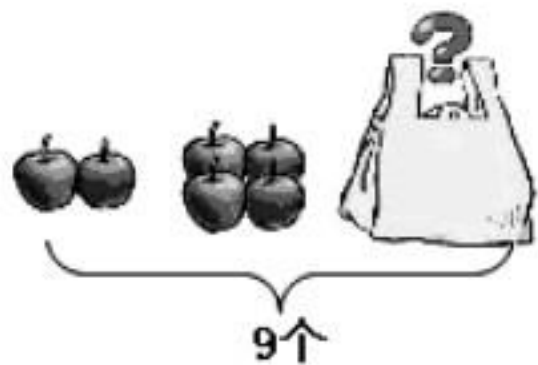
$\square \bigcirc \square = \square$ (只)

()



$\square \bigcirc \square = \square$ (只)

()



$\square \bigcirc \square \bigcirc \square = \square$ (个)


(4)



$\square \bigcirc \square \bigcirc \square = \square$ (只)

四、解决问题。(6分)

1.



停车场原来有 () 辆车,

又开来 () 辆,

现在一共有多少辆车?

$\square \bigcirc \square = \square$ (辆)

积极向上,探索自己本身价值,学业有成

2. 两只兔子一共拔了多少个萝卜？



$$\square \bigcirc \square = \square \text{ (个)}$$

3. 还剩下多少本书？



$$\square \bigcirc \square = \square \text{ (本)}$$

4. 一共有多少人？



$$\square \bigcirc \square \bigcirc \square = \square \text{ (人)}$$