

# 教科版科学二年级下册第二单元《我们自己》测试卷

## 一. 选择题(共 5 题, 共 10 分)

1. 我们可以依据 ( ) 来预测我们六年级时的身高。  
A. 父母现在的身高  
B. 现在六年级学生的身高  
C. 老师现在的身高
2. 上课时, 我们主要用到 ( )。  
A. 眼睛、鼻子  
B. 耳朵、皮肤  
C. 眼睛、耳朵
3. 在“抓尺子”游戏中, 下面不是获胜者的经验的是 ( )。  
A. 集中注意力  
B. 认真倾听  
C. 手配合眼睛快速做出反应
4. 在观察物体时, 下列说法正确的是 ( )。  
A. 我们通过一种感觉器官就能获得详细的信息  
B. 用多种感觉器官和用一种感觉器官所获得的信息是一样的  
C. 用多种感觉器官获得的信息会更全面
5. 皮肤是人体的 ( ), 可以凭借出汗等来调节体温。  
A. “空调器”  
B. “保护罩”

## 二. 填空题(共 5 题, 共 16 分)

1. 直尺、软尺、三角尺等都是用来测量 ( ) 的仪器。
2. 人体外形是 ( ) 对称的。
3. 人的生长过程大致经历 ( )、儿童期、少年期、( )、中年期和 ( )。
4. 常用的长度单位有 ( )、厘米和毫米。
5. 植物的生长通常经过 ( )、植株的生长和 ( ) 的过程。

## 三. 判断题(共 5 题, 共 10 分)

1. 我们一出生就会走路。 ( )
2. 孕妇临产前, 胎儿、胎盘及羊水的总重量约为 3 千克。 ( )
3. 视觉有障碍的人通过手指皮肤的触摸进行阅读。 ( )

4. 对于视力、听力有障碍的人，我们应当主动帮助他们。（      ）  
 5. 小明说我的身高会不断的长下去，不会停止。（      ）

#### 四. 连线题(共 1 题，共 5 分)

1. 将感觉器官与相对应的成语连线。



春风拂面    五彩斑斓    震耳欲聋    沁人心脾    津津有味


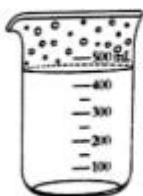
#### 五. 简答题(共 1 题，共 5 分)

1. 打篮球是常见的体育运动，请你说出这项运动都需要哪些器官的配合。



#### 六. 综合题(共 3 题，共 22 分)

1. 小朋友们，请按照要求观察下列图片。



1. 如图中的物品用触觉感知我们可以用（      ）来描述它。

- A. 光滑                      B. 粗糙                      C. 颜色不止一种

2. 如图中的物品用触觉感知我们可以用（      ）来描述它。

- A. 热                      B. 高                      C. 粗糙

3. 如图中的物品用味觉感知我们可以用（      ）来描述它。

- A. 香                      B. 轻                      C. 白色

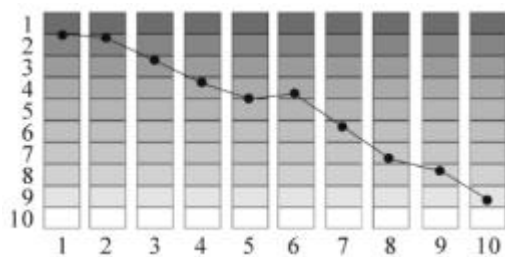
4. 如图中的物品用听觉感知，我们可以用（      ）来描述它。

- A. 声音洪亮                      B. 很热                      C. 是长方体

5. 用五官感知和只用眼睛观察相比，获取的信息（      ）。

- A. 更多、更全面                      B. 差不多                      C. 更快

2. 下图是莉莉在“抓尺子”游戏中记录的成绩，看图完成后面的问题。（尺子上端是1，下端是10，图中的点就是莉莉抓住尺子的位置）



莉莉一共测试了几次？（            ）

莉莉第 7 次抓到的成绩是几分？（            ）

③你从图中发现了莉莉在“抓尺子”游戏中的反应速度有什么变化？

（            ）

3. 下面是小亮的身体发育记录表。

日期	体重	身高	头围
2012 年 11 月 21 日	12 千克	88 厘米	48 厘米
2015 年 11 月 21 日	21 千克	111 厘米	51 厘米
2018 年 11 月 21 日	25 千克	125 厘米	52 厘米

(1) 从表中可以看出小亮的体重这几年一直在（            ），身高一直在

（            ），头围一直在（            ）。

(2) 小亮是 2010 年 11 月 21 日出生的，请你根据上面的数据和实际生活经验

预测一下，到 2020 年，他的体重是（            ）千克，身高是（            ）

厘米，头围是（            ）厘米。

(3) 除了这三个方面，还有哪些方面可以证明小亮在不断生长？

( )。

## 参考答案

### 一. 选择题

1. B
2. C
3. B
4. C
5. A

### 二. 填空题

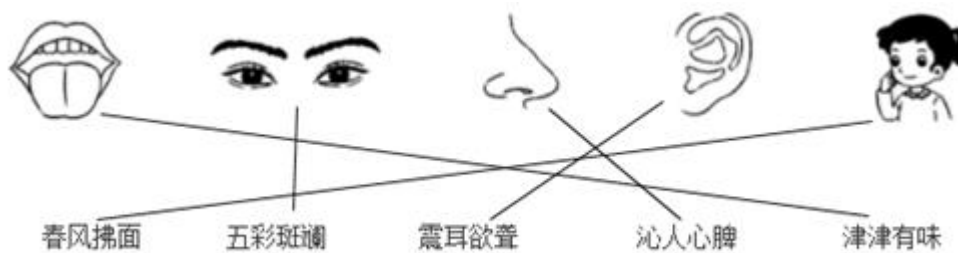
1. 长度
2. 左右
3. 婴儿期；青年期；老年期
4. 米
5. 种子萌发；开花结果

### 三. 判断题

1. ×
2. ×
3. √
4. √
5. ×

### 四. 连线题

1. 如下：



## 五. 简答题

1. 我们需要视觉器官来观察队友和对方成员的位置，需要听觉器官来和队友交流，需要触觉器官来帮助我们运球，还需要视觉器官和触觉器官相互协作来投篮。

## 六. 综合题

1. B; A; A; A; A

2. 10; 5; 反应速度越来越快

3. 增长; 增长; 增长; 43; 135; 52; 脚长在增加, 手掌在变大。

## 免费增值服务介绍



- ✓ 学科网 (<https://www.zxxk.com/>) 致力于提供K12教育资源方服务。
- ✓ 网校通合作校还提供学科网高端社群出品的《老师请开讲》私享直播课等增值服务。



扫码关注学科网

每日领取免费资源

回复“ppt”免费领180套PPT模板

回复“天天领券”来抢免费下载券



- ✓ 组卷网 (<https://zujian.xkw.com>) 是学科网旗下智能题库，拥有小初高全学科超千万精品试题，提供智能组卷、拍照选题、作业、考试测评等服务。



扫码关注组卷网

解锁更多功能