

三上数学第三、四单元测试卷

班级：

姓名：

项目	基本概念	基本计算	综合运用	书写
等第				

一. 基本概念

(一) 填空。

1、填上合适的单位。

一支铅笔长约 10() 电脑屏幕宽大约 3() 汽车每小时行 80()
 一辆货车载重约 2() 做一次眼保健操大约需要 5()

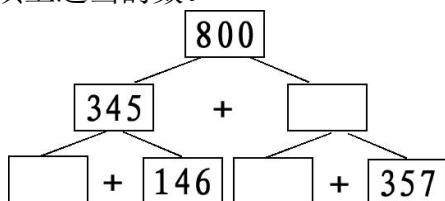
2、填上合适的数。

2000 千克 = () 吨 35000 米 = () 千米
 5 吨 3 千克 = () 千克 105 分 = () 时 () 分
 600 厘米 = () 分米 750 毫米 + 650 毫米 = () 分米
 1 吨 - 1000 克 = () 千克

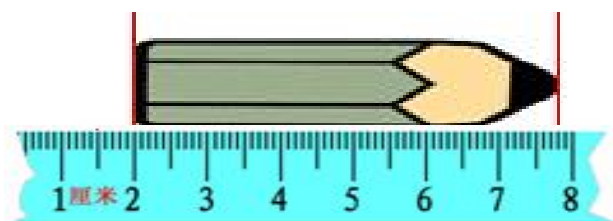
3、按从大到小的顺序给下面几个有关质量的数据排排队。

3 吨 4200 千克 9000 克 500 千克
 () > () > () > ()

4、在□里填上适当的数。



5、



这支铅笔长 () 毫米。

6、652 比一个数多 276，这个数是 ()。

(二) 判断下面的说法正确吗？(正确的打√，错的打×)

- ① 比 370 多 180 的数是 450。 ()
 ② 一吨的铁比一吨的布要重。 ()
 ③ 260 比一个数多 60，求这个数列式为 $260+60$ 。 ()
 ④ 小明家距学校 15 千米，他最好选择步行去。 ()
 ⑤ 一辆自行车 608 元，一台电风扇 197 元，妈妈带了 800 元，刚好够了。()

(三) 选一选。(将答案的序号填入括号内)

①用 2、4、8 组成三位数，每个数字只能用一次，所组三位数中，最小数比最大数小 ()。

- A. 604 B. 1090 C. 594 D. 1800

②1 千米和 1 千克相比，()。

- A. 1 千米长一些 B. 1 千克重一些 C. 一样重 D. 无法比较

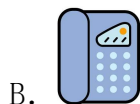
③一袋大米重 20 千克，() 袋同样的大米重 2 吨。

- A. 1000 B. 100 C. 20 D. 10

④小马虎在计算一道减法算式时，把被减数十位上的“7”看成“1”，结果得 843。正确的答案应该是 ()。

- A. 783 B. 849 C. 903 D. 923

⑤家用电器卖场进行店庆促销。估一估，价格降价幅度最大的家电是 ()。



原价： 4020 元
现价： 3906 元

205 元
187 元

360 元
185 元

800 元
618 元

二、计算部分

1、直接写得数：

$34+27=$	$54-35=$	$100-32=$	$326-74=$
$776+24=$	$100-92=$	$1000-800=$	$52-29=$
$81-36=$	$63-18=$	$80+210=$	$90-38=$
$476-278=$	$187+23=$	$52+48=$	$75+18=$

2、列竖式计算。(打★的要验算)

$423+349=$ $500-371=$ ★ $403-97=$ ★ $696+589=$

3、在○内填上>、<、=。

$318+792$ ○ 1000	$736+625$ ○ 1263	$546-99$ ○ $546-100$
$903-245$ ○ $556+234$	$739+231$ ○ $420+570$	$602-369$ ○ $527-19$

三、综合运用

1、画一画。

(1) 画一条比 1 分米短 2 厘米的线段。

(2) 画一条长 4 厘米 5 毫米的线段。

2、一辆自行车 385 元，一台洗衣机 438 元。

(1) 小华的妈妈大约准备多少钱才够？

(2) 收银员应收多少钱？

3、龙泉小学三年级有男生 274 人，女生 257 人。已经体检的有 328 人，没有体检的有多少人？

4、华林旅行社接待了一个 30 人的旅游团，到达后入住酒店，酒店有 4 人间和 6 人间两种房供选择。

(1) 如果每间房都住满，可以怎样定房？

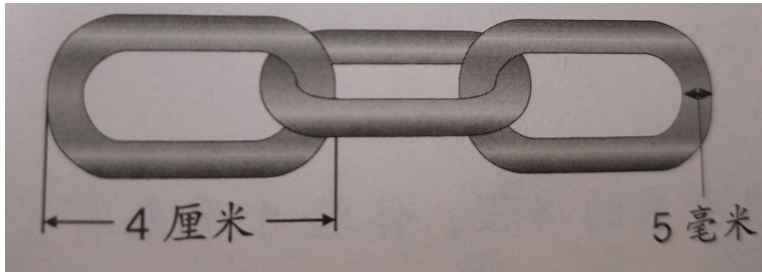
(2) 正值酒店搞活动，定一间 6 人间返现 8 元，定一间 4 人间返现金 6 元，在每间房都住满的情况下，怎样定房返现金最多？

5、小胖玩 GBA 游戏，上周积分 245 分，这个星期又积了 368 分，小胖现在已经到了哪一级别？要到达超级霸王级还要积多少分？

恐龙级	霸王级	超级霸王级
500 分以下	500~799	800~1000

答：小胖现在已经到达了（ ）级。

6、有一些大小相同的铁环连在一起，拉紧后如下图：



这 3 个铁环连在一起有多长呢？

星级题：

1. 把一袋豆子倒入一个空桶，连桶重 20 千克，把同样的 6 袋豆子倒入这个空桶，连桶重 70 千克，一袋豆子重多少千克？

2. 小明是个小马虎，他在做一道减法题时，把减数十位上的 6 写成 2，减数个位上的 1 错写成 4，最后得到的差是 312，正确的得数是多少呢？

